

## 2017年新疆兵团公务员考试《行测》真题卷

### 第一部分 常识判断

根据题目要求，在四个选项中选出一个最恰当的答案。

1. 1986年9月，邓小平在会见波兰客人时说：“我们两国原来的政治体制都是从苏联模式来的。看来这个模式在苏联也不是很成功的。即使在苏联百分之百的成功，但是它能够符合中国的实际情况吗？能够符合波兰的实际情况吗？我们现在提出政治体制改革，是根据我国的实际情况决定的。”

邓小平同志上述论断主要体现的哲学道理是（ ）

- A、矛盾具有普遍性
- B、矛盾具有特殊性
- C、内因对事物的发展起决定性作用
- D、联系具有条件性

2. 扶贫先扶志。弱鸟可望先飞，至贫可能先富，但能否实现“先飞”“先富”，首先要看我们头脑里有无这种意识，贫困地区完全可能依靠自身努力、政策、长处、优势在特定领域“先飞”，以弥补贫困带来的劣势。如果扶贫不扶志，扶贫的目的就难以达到，即使一度脱贫，也可能会再度返贫。

“扶贫先扶志”体现的哲学道理是（ ）

- A、外因是事物变化发展的重要条件
- B、内因是事物变化发展的根本原因
- C、发展就是前进性与曲折性的统一
- D、事物的普遍联系构成事物的发展

3. 目前，我国的中心工作是全面建成小康社会。这个“全面”，既要城市繁荣，也不让农村凋敝；既要东部率先，也要西部开发、中部崛起、东北振兴；既要物质丰裕，也要精神丰富；既要金山银山，也要绿水青山。

这就需要我们依据五大发展理念坚持（ ）

- A、创新发展
- B、共享发展
- C、可持续发展
- D、协调发展

4. 2017年是两岸同胞打破隔绝状态、开启民间交流的第30年。30年来，两岸同胞凝心聚力，推动交流合作从无到有，从小到大，不断排除各种干扰破坏，探索出一条两岸关系和平发展的道路。

两岸关系和平发展的政治基础是（ ）

- A、坚持和平统一方针
- B、坚持一个中国原则
- C、坚持对外开放基本国策
- D、坚持高度自治基本原则

5. 世界名著《日出·印象》作于1872年，画面展现了一个充满雾霭的海上早晨，一轮红日冉冉东升，港口、码头、舢板在雾中时隐时现，奔放的笔触和冷暖色彩的处理，使整个画面充满宁静与朝气。

该画的作者是印象派画家（ ）

- A、达·芬奇
- B、米开朗基罗
- C、毕加索
- D、莫奈

6. 五环标志是世界范围内最为人们广泛认知的奥林匹克运动会标志，它由（ ）这5个不同颜色的奥林匹克环套接组成，象征五大洲的团结以及全世界运动员友好的精神。

- A、蓝、黑、红、黄、绿
- B、蓝、黑、白、黄、绿
- C、灰、黑、白、黄、绿
- D、褐、蓝、红、黄、绿

7. “一带一路”倡议已为古丝绸之路赋予了时代的内涵，为亚欧区域合作注入了新的活力。下列各国中，古代陆上丝绸之路没有经过的是（ ）

- A、阿富汗
- B、美国
- C、沙特阿拉伯
- D、意大利

8. 根据行政处罚追究时效原则，违法行为自发生之日起（ ）内未被发现，不再给予行政处罚。法律另有规定

的除外。违法行为有连续或者继续状态的，从行为终了之日起计算。

- A、2年                                      B、3年                                      C、4年                                      D、5年

9. 张某因邻居李某常把车停在自家门口堵住出路而对李某怀恨在心，张某有听力但不会说话，因此请自己的亲戚与李某争论，然而李某多次口出恶言，张某气急之下用砖头将李某头部砸伤，经鉴定为轻微伤。

依据《治安管理处罚法》，对于张某（ ）

- A、应当不予行政处罚                                      B、应当给予行政处罚  
C、可以从轻或减轻处罚                                      D、应当从轻或减轻处罚

10. 甲乙二人决定一同毒死丙，于是趁丙不在，由乙在门外放风，甲潜入丙房间内往丙水杯中下毒。第二天，乙发现丙并未中毒身亡，于是持刀将其杀死。

上述案件中，甲属于（ ）。

- A、犯罪中止                                      B、犯罪预备                                      C、犯罪未遂                                      D、犯罪既遂

11. 张某和杨某素有矛盾，某日，两人各纠集了一伙人，在一车站附近路段打架。过程中，张某的同伙彭某持钢管追打杨某的背部，并夺走杨某携带的水果刀，持刀划伤对方两人的手臂、大腿，致对方两人轻伤2级。

上述案例中，张某和杨某的行为构成（ ）。

- A、寻衅滋事罪                                      B、聚众斗殴罪                                      C、招摇撞骗罪                                      D、故意杀人罪

12. 相比普通的中性笔，使用碳素墨水钢笔书写的字迹能长期保存而不褪色，这是因为（ ）。

- A、墨水中的碳还原成稳定的物质                                      B、墨水中的碳跟纸发生反应生成活泼的物质  
C、墨水中的碳被氧化成活泼的物质                                      D、墨水中的碳的化学性质比较稳定

13. 安全色是表达安全信息的颜色。正确辨别安全色，可以使人们尽快对威胁安全和健康的物体和环境作出反应，以防止事故、危害发生。

根据我国有关标准，含有“禁止、停止、消防和危险”意思的安全色是（ ）

- A、红色                                      B、蓝色                                      C、黑色                                      D、黄色

14. 在体操比赛中，我们经常能够看到运动员会在手或器械上擦一种白色粉末，这种白色粉末实际上是一种防滑的（ ），涂抹的目的是增加手掌与器械之间的摩擦力，防止从器械上脱手。

- A、氧化铜                                      B、氧化铁                                      C、氢氧化钠                                      D、碳酸镁

15. 民谚“水上的葫芦一沉不下去”，究其原因，主要是由于（ ），故只能漂浮在水面上。

- A、葫芦的体积小于水的体积                                      B、葫芦的质量小于水的质量  
C、葫芦的密度小于水的密度                                      D、葫芦的比热容小于水的比热容

16. 近年来，3D 立体电影的流行给人们带来了身临其境的享受。3D 立体电影能产生三维立体效果，主要是利用了（ ）和会聚功能这一原理。

- A、人双眼观察物体接收光源的差异                                      B、人双眼观察物体的辨色的差异  
C、人双眼观察物体的视力的差异                                      D、人双眼观察物体的角度的差异

17. “乡愁是一湾浅浅的海峡，我在这头，大陆在那头”是余光中所写的脍炙人口的诗句。下列有关“这头”的说法，错误的是（ ）

- A、位于我国东南沿海的大陆架上                                      B、明朝时期郑成功曾收复此地  
C、在我国古代曾被称为“瀛洲”                                      D、曾因《南京条约》沦为日本的殖民地

18. 她是中国历史上唯一的正统女皇帝，也是即位年龄最大（67岁即位）、寿命最长（终年82岁）的皇帝之一。

“她”指的是（ ）

- A、慈禧    B、吕雉    C、萧绰    D、武则天

19. 唐太宗从波澜壮阔的农民战争中认识到人民群众力量的伟大，吸取隋朝灭亡的原因，非常重视百姓的生活。他强调以民为本，常说：“民，水也；君，舟也。水能载舟，亦能覆舟。”唐太宗即位之初，便下令轻徭薄赋，让百姓休养生息。唐太宗的执政措施实质体现了（ ）思想。

- A、法家的“以法治国”    B、墨家的“兼爱非攻”  
C、儒家的“仁政德治”    D、道家的“自然无为”

20. 中国人民银行授权中国外汇交易中心公布，2017年9月15日银行间外汇市场人民币汇率中间价为：1美元对人民币6.5423元。人民币汇率中间价持续走高，若不考虑其他因素的影响，下列说法正确的是（ ）

- A、国税局出口退税将增加    B、出口贸易型企业效益将提升  
C、出国游人数会增加    D、海外购交易额将下降

## 第二部分 言语理解与表达

本部分包括表达与理解两方面的内容。请根据题目要求，在四个选项中选出一个最恰当的答案。

21. 网络对儿童而言是一把“双刃剑”，一方面可以让儿童更早\_\_\_\_\_现代人必备的网络知识和技能，为他们打开通往未知世界的大门；另一方面，过早触网也容易让儿童\_\_\_\_\_于网络游戏等虚拟空间不能自拔，容易对儿童的正常学习和成长造成影响和干扰。

依次填入划横线部分最恰当的一项是（ ）

- A、接触 沉溺    B、触摸 享受    C、了解 迷惑    D、熟练 堕落

22. 一件保留着旧家具线条和质感的桌子或是储物架或是一张床，你能\_\_\_\_\_到它所代表的那个时代的美好和情怀，四四方方、敦实简朴：那是小孩子骑着三只小轮子的童车串胡同的快乐；也是夏天院子里刚洗好的白床单，在阳光里\_\_\_\_\_出的洗衣皂香。

依次填入划横线部分最恰当的一项是（ ）

- A、体验 散逸    B、感受 散发    C、感应 散发    D、触摸 散逸

23. 在诗的最后一节，诗人写出了现代文明的冲击对他本人的影响。从寥寥数笔的\_\_\_\_\_中，我们不难体味到诗人对现代文明的大胆\_\_\_\_\_。

依次填入划横线部分最恰当的一项是（ ）

- A、描绘 捉弄    B、刻画 嘲讽    C、勾勒 嘲弄    D、勾画 玩弄

24. 远处云烟缭绕、植被茂密的青山，以及行走在街头身着民族服饰的不丹人，足以\_\_\_\_\_城市外观上的漏洞。延布街头的不丹女人大多身穿宽袖窄身的“旗拉”，男人不少则穿着过膝长袍“幅”，服装的布料都是织造的，用的是自然布料，且以传统自然染料染成，即使远看也有一种\_\_\_\_\_。

依次填入划横线部分最恰当的一项是（ ）

- A、弥补 韵味    B、补偿 风味    C、抵偿 趣味    D、填补 味道

25. 目前，我国杂技院团和杂技从业者以及杂技市场之间缺乏有效的\_\_\_\_\_，杂技院团还未对市场有充分的了解，就\_\_\_\_\_锁定目标，按照杂技先练技巧再拼接的传统方法把节目先排出来，这样虽然能保证杂技表演的质量，但未必是目前杂技演艺市场最为需要的。

依次填入划横线部分最恰当的一项是（ ）

- A、磨合 精准      B、磨合 盲目      C、摩擦 精准      D、摩擦 盲目

26. 如何去\_\_\_\_\_隐藏在已千变万化了的各种学说背后尚未完全遗失的经典原貌，获得真实的体温和人格图谱，从而剥离后世僵化、变异、乏味、随心所欲的解读，尤其是那些自以为智慧的肢解和\_\_\_\_\_，当是目前国学热当中应解决的重要问题。

依次填入划横线部分最恰当的一项是（ ）

- A、探求 伪造      B、搜寻 修改      C、发掘 篡改      D、挖掘 窜改

27. 《金陵小巷人物志》这本书在设计上\_\_\_\_\_，几乎没有封面，直接以装订的第一页作为封面，从封面到内页，都选用了粗糙耐用、富有生活气息的牛皮纸，整本书像是块毛坯砖，\_\_\_\_\_，“小人物”的精彩也在设计中得到了很好的体现。

依次填入划横线部分最恰当的一项是（ ）

- A、独具匠心 素面朝天      B、独具匠心 朴实无华  
C、突发奇想 素面朝天      D、突发奇想 朴实无华

28. 人们曾经\_\_\_\_\_的奇妙技术实际上已经在无声无息中应用到日常生活的方方面面。对于很多都市人来说，比朋友更重要的智能手机中的每一个应用，都是人工智能程序为用户\_\_\_\_\_的生活规划。

依次填入划横线部分最恰当的一项是（ ）

- A、渴求 量身打造      B、希望 量身打造  
C、渴求 量体裁衣      D、希望 量体裁衣

29. 看病“货比三家”造成医疗资源的巨大浪费，客观上也进一步\_\_\_\_\_了“医生荒”。究其原因，一方面是患者对自身的疾病过于担忧和焦虑。从积极的角度来看，这是现在公众更加重视自身健康的表现，值得肯定，但是\_\_\_\_\_，并不值得提倡。另一方面，则是患者对医生和医院缺乏信任，总想在不同的医院和医生之间进行反复比较和验证，一旦两个或者是多个医生给出的结论不一致，患者就更加担心和焦虑，只能去另寻高明，结果就陷入一种恶性循环。

依次填入划横线部分最恰当的一项是（ ）

- A、加剧 过犹不及      B、增加 物极必反      C、加重 适可而止      D、恶化 矫枉过正

30. 在\_\_\_\_\_着传统女性乞巧习俗、忠贞不渝爱情观和现代时尚情人节多样标签的七夕，已经愈加成为\_\_\_\_\_传统文化的窗口，成为青年人眼中表达浪漫爱情的舞台。

依次填入划横线部分最恰当的一项是（ ）

- A、承继 宣扬      B、发展 弘扬      C、沿袭 推广      D、跟随 宣扬

31. 文物保护有时与大众的想法因出发点不同而会产生分歧，比如出于保护的考虑，很多墓葬遗址能不发掘就不发掘，\_\_\_\_\_知道里面可能有价值连城的文物，\_\_\_\_\_文物本身蕴含的历史价值和文化价值更重要。

依次填入划横线部分最恰当的一项是（ ）

- A、因为 但      B、不但 而且      C、即使 但      D、既 又

32. 制定一项公共政策时就算再\_\_\_\_\_、未雨绸缪，也不能无视广大基层民众的心声，无视“公平”二字，否则只能成为\_\_\_\_\_了。

依次填入划横线部分最恰当的一项是（ ）

- A、管中窥豹 众叛亲离      B、居安思危 无的放矢

C、高谈弘论 千夫所指

D、高瞻远瞩 众矢之的

33. 近年来，随着金融改革开放步伐加快，多层次资本市场建设稳步推进，金融市场创新日趋活跃，与金融密切相关的金融信息服务出现\_\_\_\_\_的发展，但金融信息质量\_\_\_\_\_，市场秩序有待健全规范。

依次填入划横线部分最恰当的一项是（ ）

A、突飞猛进 参差不齐

B、日新月异 良莠不齐

C、江河日下 泥沙俱下

D、与日俱增 鱼目混珠

34. 全国政协工作\_\_\_\_\_关注民生、保障民生、改善民生，这既是职责所在，更是党和人民的重托。\_\_\_\_\_，对于各级党委、政府和领导干部来说，关注民生是最大的政治，改善和保障民生是最大的政绩。

依次填入划横线部分最恰当的一项是（ ）

A、专心致志 然而

B、坚忍不拔 同样

C、矢志不渝 同样

D、持之以恒 然而

35. 保护好历史建筑，实质就是留住城市发展的\_\_\_\_\_，让人真切\_\_\_\_\_到城市的“昨天”“今天”与“明天”。我们并不\_\_\_\_\_有历史的城市，但很多城市确实缺少“历史感”与“厚重感”。就此看，“不拆真遗存，不建假古董”，其实不是针对具体历史建筑的保护，而是强调对历史的敬畏，对人文本位的回归。

依次填入划横线部分最恰当的一项是（ ）

A、痕迹 感受 存在

B、文脉 体认 缺乏

C、线索 了解 获得

D、遗迹 领悟 缺少

36. 一直以来，家庭养老是中国式养老的重要方式，极大\_\_\_\_\_了社会养老风险。不过，随着计划生育和人口流动因素的影响，“四个老人、一对夫妻和一个孩子”的家庭模式，使家庭养老功能\_\_\_\_\_。目前，中国式养老大致有三种方式：家庭养老、社区养老和机构养老。而机构养老除国家投资的养老院外，需求最大的是一般工薪阶层消费水平可以负担的养老院，但这类养老院\_\_\_\_\_。而无论是哪种养老，背后都藏着两本账：经济账和感情账。

依次填入划横线部分最恰当的一项是（ ）

A、承担 减弱 供过于求

B、减轻 强化 于事无补

C、舒缓 失去 事倍功半

D、缓解 弱化 供不应求

37. 回望一些官员的成长史，他们可以从农村子弟中脱颖而出，\_\_\_\_\_不能保持赤子之心，归根结底是在权力欲前飘飘然了，忘了自己的出身和初心。要真正为人民服务，就需要把人民放在心中，\_\_\_\_\_口头上用“农民的儿子”标榜自己，\_\_\_\_\_如法炮制来博取同情，毫无疑问，都只是把他们自己放在心中。

依次填入划横线部分最恰当的一项是（ ）

A、却 凡是 或是

B、但 如果 就

C、却 因为 所以

D、但 即使 但是

38. 魔术是一门\_\_\_\_\_的艺术，要想产生惊奇的效果，就要制造假象，将物体真实的状态\_\_\_\_\_起来。一般，魔术师们总是会将各种物体藏起来，让人们对物体的状态产生错误的想象，而事实上，魔术表演还能制造出更加有趣的\_\_\_\_\_：比如，在观众的脑子里创造出一件并不存在的魔术道具。

依次填入划横线部分最恰当的一项是（ ）

A、真实 展现 幻觉

B、误导 隐藏 错觉

C、错误 掩盖 想象

D、欺骗 珍藏 画面

39. \_\_\_\_\_，之所以医疗领域出现今天的状况，也和我国的财政投入不足有关，但是医改是世界性难题，即便是发达国家也没有探索出合理的模式。所以不能\_\_\_\_\_中国的医疗体系，毕竟，改革开放后的几十年医疗事业的成就是\_\_\_\_\_的，尤其是近年来，我国社会保障制度的逐步扩大范围更起到了兜底的作用。

依次填入划横线部分最恰当的一项是（ ）

- A、不可否认 求全责备 有目共睹
- B、众所周知 吹毛求疵 众目睽睽
- C、不置可否 斤斤计较 熟视无睹
- D、无可非议 评头品足 尽人皆知

40. 在身份社会逐渐向专业社会过渡的当下，社会分工的精细化蕴含着“专业人做专业事”的价值追求。代驾作为一个新兴职业，不仅需要扎实的驾驶技能、丰富的驾驶经验，也需要从业者遵循相应的职业规范和职业伦理。只有这样，才能实现代驾与消费者的互信互惠。

这段文字意在强调（ ）

- A、社会分工精细化对当代社会的影响
- B、代驾职业产生的原因
- C、代驾职业需要专业化与规范化
- D、代驾从业者在职业规范和职业伦理上有所缺失

41. 在人类历史早期，城市普遍是沿河流或冲积平原而建立的。这样的地方有充足的水源，土壤肥沃，利农耕，河流便于运输，还可作为天然的军事防御屏障。这类城市，由早期在河流的一侧逐渐扩展至河流的两岸，由于受到河流的影响以及被河流分割，所以其形状都是不规则的几何体。世界四大文明古国都是以河流为依托发展起来的。

根据这段话，下列说法正确的是（ ）

- A、在古代不存在设计得方方正正、匀匀称称的城市
- B、早期的城市主要是港口城市，其经济地位远比政治地位更重要
- C、不规则的几何体是人类历史早期城市的普遍形状
- D、世界四大文明古国沿河而建，易守难攻，因此是重要的军事要塞

42. “假疲劳”不光出现在运动时，其实人生的每一次尝试或者探索，都会遇到“假疲劳”的困扰。要完成一项任务，接手一份工作，开始时顺风顺水，进展迅速，但随着过程的推进，碰到的问题越来越多，遇到的困难越来越大，需要不断支出精力和体力，难免心生倦怠，甚至质疑自己的能力。然而，越是到了“乳酸”积累的峰值，越不应轻言放弃，面对虚假疲劳的“杯弓蛇影”畏葸不前。

这段文字中的“乳酸”指的是（ ）

- A、所能汲取的新能量
- B、遇到的困难与挫折
- C、逃避责任的借口
- D、个人成就及荣誉

43. 习近平总书记多次用“墩墩苗”来比喻年轻干部的成长。墩苗，正是抑制幼苗茎叶徒长、促进根系发育，让庄稼能耐得住旱涝、扛得住风雨。年轻干部坚持在基层滚出一身泥巴味、与群众建立真感情，才可能出政绩、得信任，迎来真正向上的成长。

最适合作为这段文字的标题是（ ）

- A、行动最有说服力
- B、“向下”与“向上”的辩证法
- C、基层锻炼需坚守“初心”
- D、年轻干部“向下”方能“向上”

44. 睡眠瘫痪症通常发生在刚入睡或是将醒未醒时，患者觉得自己已醒过来，可以听见周遭的声音及看到周遭的影像，但是除了眼球外全身无法动弹，连呼喊也无法发出。有的人会伴发视觉、听觉和触觉上的幻觉，感觉就像真实发生一般，个别人还会感到自己灵魂出窍。据美国《科学探索杂志》报道，睡眠瘫痪通常持续几秒钟到一分钟。多数人在这个时候会觉得恐慌，所幸这种情形多半在几分钟内会自己慢慢地或突然地恢复肢体的动作。

这段文字主要谈论的是（ ）

- A、睡眠瘫痪症对健康的危害
- B、如何预防睡眠瘫痪症

C、睡眠瘫痪症的成因

D、睡眠瘫痪症的症状

45. 城市减灾没有终止点，恰恰是减灾驱策着一座城市不断夯实功能，深挖基础。即使在发达国家的城市，一场风暴、一场大雪、一次大雨使城市困扰或瘫痪也是不时发生的。人们交口称赞的巴黎“地下宫殿”，在近日法国遭遇的强降雨天气中，也显现出疲惫，包括巴黎在内的中央大区和大巴黎地区等 19 个省发生了洪水灾害。由此可见，“下水道良心”如巴黎，同样面临自身的问题，自然灾害面前，城市建设有与时俱进的课题。

给这段文字加上标题，最恰当的一项是（ ）

A、城市发展是漫长的建设过程

B、发展仍是城市建设的一项中心工作

C、城市减灾是长久课题

D、城市减灾的疑难杂症

46. 在说服他人时，如果你和颜悦色地用提问的方式代替命令，并给人以维护自尊和荣誉的机会，气氛就是友好而和谐的，说服也就容易成功；反之，在说服时不尊重他人，拿出一副盛气凌人的架势，那么说服多半是要失败的。毕竟人都是有自尊心的，就连三岁孩童也有他们的自尊心，谁都不希望自己被他人不费力地说服而受其支配。

这段文字意在强调（ ）

A、在我们的日常生活中，需要说服的对象有很多

B、在说服他人时，应设法调节谈话的气氛

C、说服他人时，要学会争取同情，以弱克强

D、以刚治刚的方法在说服他人时不可取

47. 互联网给报纸带来了挑战，但这并不意味着报纸要和互联网势不两立。对于一种更为有效、更吸引受众的传播技术，报纸没有理由厌弃，完全可以为自己所用。在此轮改版中，很多报纸都强调了与基于互联网技术的新媒体融合，这是一个值得关注的转变，说明报人已经意识到了在目前的传播格局中应该做出改变。

这段文字意在强调报纸的改版应注重（ ）

A、提高发行速度

B、借力新兴媒介

C、寻求独特价值

D、深耕特色新闻

48. 街道老了必然面临改造的命运，但城市文化、城市味道未必不能保存和延续下来。仔细研究那些消失的地方特色美食、知名老店，会发现它们往往不是消失于“市场的选择”。对城市来说，不能只有看得见的光鲜、摸得着的利益、便于量化的经济增长指标，更需要市井的味道、城市的记忆、百姓的情感。

这段文字意在强调（ ）

A、老街是城市文化的重要载体

B、老街的消失是市场选择的结果

C、老街改造的理由不够充分

D、老街改造不能抹掉情感记忆

49. 大学生拥有的阅读观难以超脱于整个社会的阅读氛围与品质，但作为一个相对独立的群体，大学生的阅读习惯离不开大学教育在价值与方式上的牵引与涵养。比如，国外不少大学不仅对学生有经典阅读的要求，而且在课堂教育、考试中往往有对阅读能力的考查。相对来说，在我们的大学教育中，学生日常阅读能力与课堂学习及考试几乎是毫不相干的两个独立系统，考试前，学生突击一下考试大纲便可交差。

这段话意在强调（ ）

A、我国大学生的阅读观仍未形成

B、阅读能力培养应与考试相挂钩

C、我国大学应展现更强的阅读牵引力

D、国外大学重视阅读能力的考查

50. 孤独，是需要我们有独处的时间，做到“如我所是”，完全不需要装扮、做作，不需要戴着帽子抽根烟来装深沉。诚然，如今的青年缺少一份孤独者的精神，上课、工作、陪伴、娱乐，哪怕仅剩下的一些边边角角的时间也都被电脑和手机无情地占据，空虚和寂寞是自然而然的结果。许多看似大脑活跃的时间，却完全没有用来思考，不论忙碌还是庸碌都没有留下一些独处的时间，白驹过隙的人生又何来理想？

这段话意在强调（ ）

- A、独处时间的缺乏，让青年忽略了自身的理想  
B、素质教育的缺乏，让青年的学习变得模式化  
C、垃圾信息的过饱和，让青年不知思考为何物  
D、无用时间的过饱和，让青年没有了方向感

51. 青春洋溢、风华正茂之时，正是人生之路起步的关键处，这个阶段得打好基础、抓好养成。作家柳青说过：“人生的道路虽然漫长，但紧要处常常只有几步，特别是当人年轻的时候。”人生是单行道，起步错了难免绕弯路、走远路。上好人生的第一课，确立好人生的起跑线、基准线，才能让起跑成为起飞的开始。

与这段话蕴含的哲理相近的是（ ）

- A、纸上得来终觉浅，绝知此事要躬行  
B、千淘万漉虽辛苦，吹尽狂沙始到金  
C、白日放歌须纵酒，青春作伴好还乡  
D、凿井者起于三寸之坎，以就万仞之深

52. 诗与画，是既异质、又相通的两种艺术形式。诗是语言听觉的艺术。“宣物莫大于言”，说清楚一件事的来龙去脉、曲折道理，非一幅画能表达明白，必须辅以语言文字；画是视觉造型的艺术，“存形莫善于画”，要把一事物作具体逼真的描述，再多的文字语言不如配以一张画照来得清晰明了。诗与画的运用，是中国画在发展过程中所形成的一个重要特点，能使艺术效果达到最大化。

作者认为，为使中国画的艺术效果达到最大化，诗与画的关系应是（ ）

- A、各行其是  
B、唇亡齿寒  
C、和而不同  
D、珠联璧合

53. 香龙血树又名巴西木，为天门冬科龙血树属下的一个种，是一种原生于非洲的开花植物，生长于海拔600-2250m的高地。巴西木株形整齐优美，叶片宽大，富有光泽，苍翠欲滴，是著名的新一代室内观叶植物。它可以中小盆点缀书房、客厅和卧室等，显得清雅别致；大中型植株布置于厅堂、会议室、办公室等处，可较长期欣赏，颇具异国情调；尤其是高低错落种植的巴西木，枝叶生长层次分明，还可给人以“步步高升”之寓意。

从这段文字中无法得知的信息是（ ）

- A、香龙血树的地理分布  
B、香龙血树的形态特征  
C、香龙血树的观赏作用  
D、香龙血树的名称来源

54. 一则“用十几块钱的小苏打（碳酸氢钠）饿死了癌细胞”的新闻引发了争议。对此，专家指出，其实癌细胞是很难饿死的，因为其食粮——葡萄糖即便很少，癌细胞也会非常节约地利用，原因在于它有乳酸的帮助，但乳酸会分解成一个乳酸根和氢离子，因此小苏打（碳酸氢钠）的作用是，以碱基和氢离子结合，形成不稳定的碳酸，溶解在血液中，乳酸根单独不能帮助癌细胞获取葡萄糖。这时，再断了肿瘤的食粮，就可以很快杀死癌细胞。

下列对“小苏打”的叙述，与原文意思相符的是（ ）

- A、小苏打分解乳酸后与氢离子结合  
B、小苏打能够阻碍癌细胞获取葡萄糖  
C、小苏打在化疗中有杀死癌细胞的作用  
D、小苏打能够阻断癌细胞的血供

55. 始建于明洪武十四年的小河口长城，由青砖修建而成，用白灰勾缝，其门窗也都雕刻着精美的花纹。如今，曾经饱经沧桑的长城砖面已经被抹成了水泥地，历史的印记已经不复存在。就一事一议而言，当地长城的修复工作似乎没有问题，不仅依法依规，还报请了上级审批通过，可就是这样一个层层“合规”的修缮工作，却把“最美野长城”一段一两公里的城墙与地面抹平，把起伏的墙垛与野性风貌用硬化路面所替代，不仅让文物保护的圈内人为之痛心，就连普通公众面对这样的修缮也难免气愤。

从这段文字可知作者对修缮小河口长城做法的态度是（ ）

- A、中立  
B、支持  
C、批判  
D、讽刺

56. “心脏性猝死”是由于心脏舒张——收缩活动突然停止而导致的意外死亡，也就是心脏骤停。在美国，心脏性猝死是国民死亡的主要原因之一。即使病人幸存下来，病情也会对其生活质量和寿命造成毁灭性的影响，不仅



增加了大量的医疗费用，也给社会和家庭带来了沉重的经济负担。美国杜克大学一位医学教授表示，这十个方法是心脏性猝死预防领域的首套综合性措施，有助于改善患者的护理和预后。

根据这段文字，作者接下来最可能谈论的是（ ）

- A、美国医疗界对心脏性猝死的研究成果
- B、心脏性猝死为何在美国频繁发生
- C、心脏性猝死产生的具体原因是什么
- D、预防心脏性猝死的十项措施具体有哪些

57. \_\_\_\_\_。在社会生活中，每个人都有自己的正当利益。维护自己的利益，同时也维护他人的利益，谓之正义。利与义的和諧，是社会生活中的人们共同追求的价值，也自然成为应共同遵守的道德规范和行为准则。但少数人为了谋求自己的私利，损害和侵蚀多数人的利益，违反规则而得不到制止和惩处，反而变本加厉，以至形成风气，违规行为就成了潜规则。

填入划横线处最恰当的一项是（ ）

- A、潜规则实际上是一种社会契约
- B、潜规则是公众利益和每个人正当权益的保障
- C、潜规则制约着社会生活的正常运行
- D、潜规则的本质是社会价值观被扭曲

58. 科学是什么？在中国科学院院士、清华大学教授张钹看来，科学就是\_\_\_\_\_。“这是科学的两层含义，不轻信就是怀疑，科学是建立在怀疑和批判的基础上，要对所有的东西抱怀疑的态度，说服了我，我才能相信它”，张钹解释说，“一个人科学知识缺乏，就会容易倾向于轻信。尊重科学规律则意味着，一旦认识到它是科学的，就要尊重其科学规律”。

填入横线部分最恰当的是（ ）

- A、怀疑和批判
- B、不轻信和尊重科学规律
- C、不轻信和敢于批判
- D、怀疑和尊重科学规律

- 59. ①汉武帝一锤定音，选择“相濡以沫”的儒术，使其成为治理天下的主流文化
- ②从此以后的两千多年，孔孟思想作为官方话语，规范、制约着政治、经济和文化的发展
- ③这场关乎文化核心价值观的争论，一直延伸到西汉中期
- ④“相濡以沫”还是“相忘于江湖”的争论，成为先秦时期百家争鸣的核心话题
- ⑤这与当时社会的政治体制、经济模式是一致的
- ⑥在漫长的两千多年的时间里，物质与精神如此步调一致，显然包含着历史的必然性

将上面的句子组成语意连贯的语段，排序最恰当的一项是（ ）

- A、④③①②⑤⑥
- B、④③①⑤②⑥
- C、①③②⑤⑥④
- D、①③⑤②④⑥

- 60. ①首先，就饮食健康而言，种类要选当季的，烹饪时加入的调料尽量简单，别追求高盐高油的重口味
- ②科学研究证实，传统的花色朴素的陶瓷器，是相对健康的保鲜器皿
- ③其实生活中，也需要保留很多“土”法子
- ④这种沿袭了上千年的“土”方法，战胜了各种充满化学元素的高科技
- ⑤其次，就穿衣着装来说，选用的质料越自然、越朴实越好
- ⑥比如，为婴幼儿购买服装最好选择浅色、少印花、少图案的，艳丽的服饰往往加入了过多的染料，会成为健康的隐形“杀手”

将上述句子组成语意连贯的语段，排序最恰当的一项是（ ）

- A、①②③⑥⑤④
- B、②④①⑥⑤③
- C、②④③①⑤⑥
- D、①②④③⑥⑤

### 第三部分 数量关系

在这部分试题中，每道题呈现一段表述数字关系的文字，要求你迅速、准确地计算出答案。

61. 甲乙两家公司生产同样的传感器，从2月开始甲公司每月产量不变，乙公司每月增加1倍。已知1月份两家公司共生产传感器7200件，2月份两家公司共生产传感器8600件，乙公司第一次产量超过甲公司是在（ ）月份。

- A、4                      B、5                      C、6                      D、7

62. 已知一形状为正六边形的跑道，边长为150米，甲乙两人分别从两个相对的顶点同时出发，沿跑道相向匀速前进。两人第一次相遇时乙比甲多跑了50米，则甲乙两人跑步的速度之比是（ ）

- A、3:5                      B、4:5                      C、5:3                      D、5:4

63. 一个圆形的面积是54平方厘米，如果将该圆的半径变为原来的两倍，则该圆的面积变为（ ）平方厘米。

- A、81                      B、108                      C、162                      D、216

64. 某服装店进了一批短袖T恤，每件进价40元，以80元出售。但由于极端天气影响，这批T恤大批量积压。现老板打算将这批T恤打折处理，但要求利润率不低于10%，则最多能打（ ）折出售。

- A、4                      B、5                      C、5.5                      D、6.5

65. 甲、乙、丙三人，其中每两个人的年龄之和分别是55岁，58岁，63岁，那么这三个人中年龄最小的是（ ）岁。

- A、25                      B、26                      C、30                      D、33

66. 有两个烧杯各装有一些盐酸溶液，其中乙烧杯中的盐酸浓度是甲烧杯的3倍，甲烧杯中盐酸溶液的质量是乙烧杯的3倍，那么将甲、乙两烧杯溶液混合后的盐酸溶液的浓度可能为（ ）。

- A、10%                      B、15%                      C、31%                      D、35%

67. 甲企业有两台新旧程度不同的设备A和B，两台设备同时运作10小时可生产出920件零件，已知新设备A生产速度是旧设备B生产速度的1.3倍，A设备每小时能生产出（ ）件零件。

- A、52                      B、40                      C、30                      D、35

68. 某个品牌的罐装饼干中，有不同动物形状的饼干共100个，其中狮子形状的有30个，小猪形状的有40个，兔子形状的有30个。小明从罐中任意取出一把饼干，发现狮子形状的有10个，小猪形状的也有10个。此时，小明接着取出一个兔子形状饼干的概率是（ ）。

- A、 $\frac{1}{2}$                       B、 $\frac{1}{3}$                       C、 $\frac{3}{8}$                       D、 $\frac{3}{10}$

69. 李明国庆节假期要做若干道英语试题，第一天做了这些试题的一半多一道，第二天做了剩下的一半多一道，第三天又做了剩下的一半多一道后，还剩一道试题。那么李明国庆节假期总共要做（ ）道英语试题。

- A、12                      B、16                      C、22                      D、24

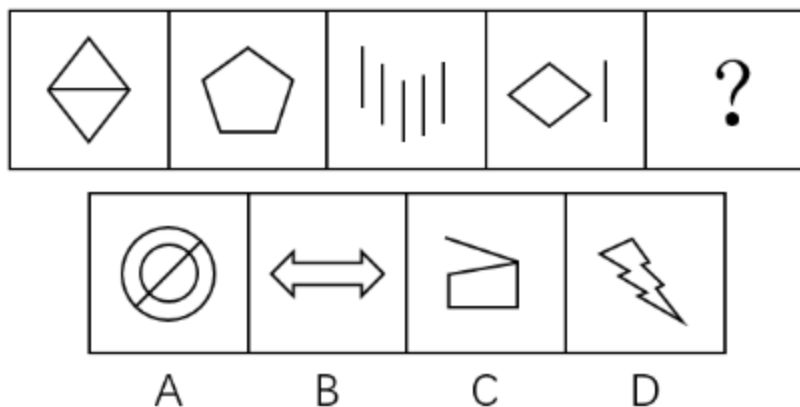
70. 小明参加某趣味问答竞赛，一共50题，满分是100分，60分及格。答对一题得2分，答错一题扣2分。结果小明答完所有题目但是没有及格。小明最后发现，如果自己多答对2题就刚好及格。那么小明一共答错了（ ）题。

- A、12                      B、20                      C、34                      D、38

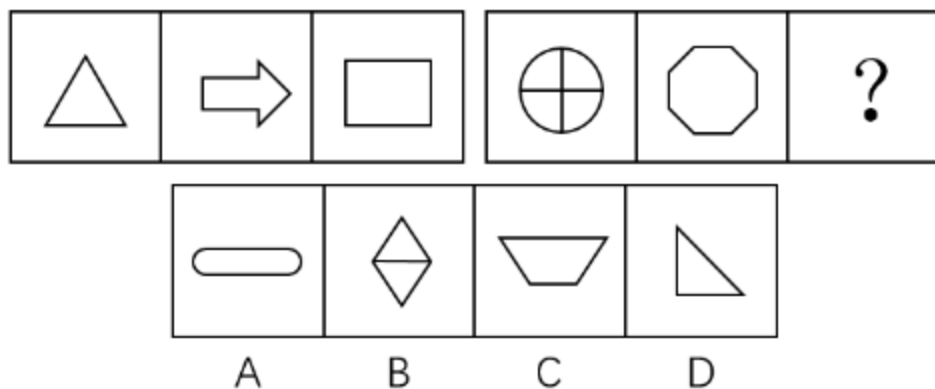
### 第四部分 判断推理

本部分包括图形推理、定义判断、类比推理与逻辑判断四种类型的试题，在四个选项中选出一个最恰当的答案。

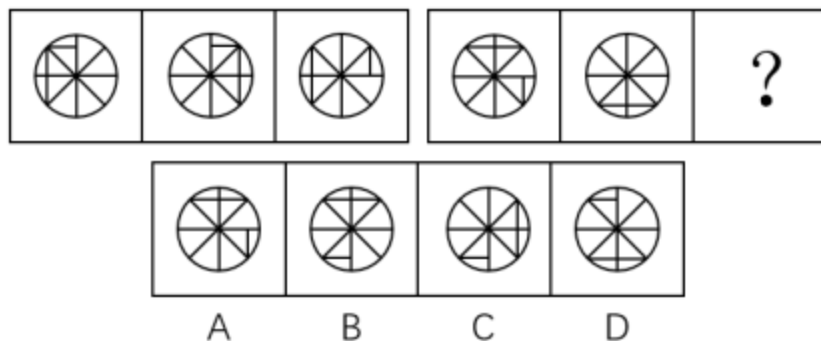
71. 根据所给图形的既有规律，选出一个最合理的答案。（ ）



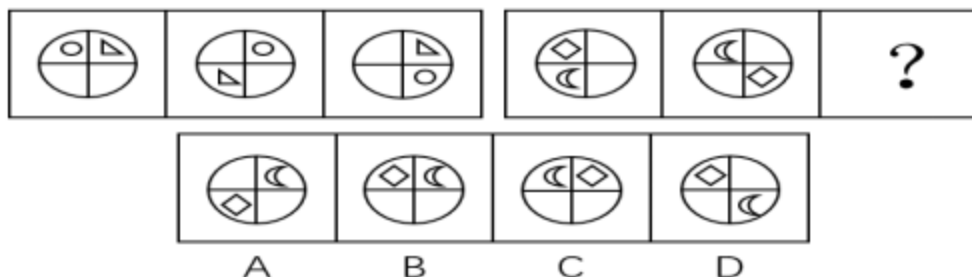
72. 根据所给图形的既有规律，选择一个最合理的答案。（ ）



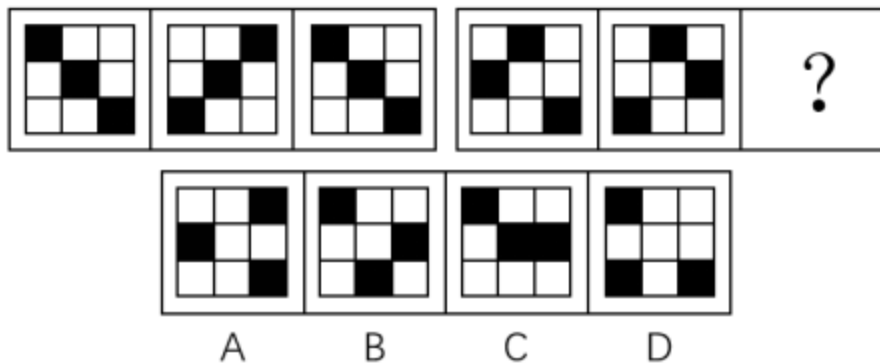
73. 根据所给图形的既有规律，选出一个最合理的答案。（ ）



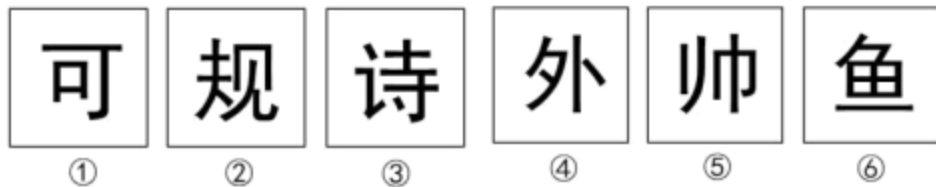
74. 根据所给图形的既有规律，选出一个最合理的答案。（ ）



75. 根据所给图形的既有规律，选出一个最合理的答案。（ ）



76. 把下面的六个图形分为两类，使每一类图形都有各自的共同特征或规律，分类最为恰当的一项是（ ）



A、①②③, ④⑤⑥    B、①②④, ③⑤⑥    C、①③⑤, ②④⑥    D、①④⑤, ②③⑥

77. 好意实惠是指当事人之间无意设定法律上的权利义务关系，而由当事人一方基于良好的道德风尚实施的使另一方受恩惠的关系。

下列不属于好意实惠关系的是（ ）

- A、甲看到行动不便的盲人乙在过马路，主动过去帮助乙通过了马路
- B、丙驾驶摩托车经过丁婆婆身边，主动询问是否需要帮助，然后把丁婆婆送到了目的地而未收取费用
- C、吴某在其便利店中帮人收取快递并保管三天，收取 1 元的手续费
- D、何某看到邻居张某离家没有锁门，于是帮张某把门锁好

78. 圆雕，是指不附着在任何背景上、可以从各个角度欣赏的立体的雕塑。其手法与形式多种多样，有写实性的与装饰性的，也有具体的与抽象的，着色的与非着色的等。

根据上述定义，下图所示雕塑作品中，属于圆雕的是（ ）



79. 心理暗示是人们为了某种目的，在无对抗的条件下，用含蓄的、间接的方式发出一定的信息，使他人或自己接受所暗示的观点、意见，或按所暗示的方式进行活动。

根据上述定义，下列不属于心理暗示的是（ ）

- A、望梅止渴                      B、杯弓蛇影                      C、草木皆兵                      D、知己知彼

80. 环境影响评价指拟定开发计划或建设项目时，事前对该计划或项目将给大气、水体、土壤、生物以及由它们组成的环境系统造成什么影响，这些影响的结果又将对人类的健康和生活环境以及自然环境和经济、文化、历史环境造成什么影响所进行的调查、预测与评价，以及据此制定出防止或减少环境污染和破坏的对策与措施。

根据上述定义，下列属于环境影响评价行为的是（ ）

- A、某零售公司在建新商场之前，对周围的居民进行调查以确定其购买能力
- B、某市在建设垃圾处理厂之前，请专家对全市垃圾总量进行评估，以确定垃圾处理厂的规模
- C、某市在建飞机场后，由于连续发生了多起飞行安全事故，邀请专家对飞机场提出改进措施
- D、某市在建立污水处理厂之前，请专家对周边的河流、水文进行检测后，并提出相应的控制性建议

81. 单位犯罪，指公司、企业、事业单位、机关、团体实施的危害社会的、依照法律规定应受惩罚的行为。

根据上述定义，下列属于单位犯罪的是（ ）

- A、某医院的院长利用职务之便收受贿赂
- B、某事业单位一名员工因对领导不敬，因此被降职
- C、某班级的学生认为教师甲的教学能力差，因此集体向学校领导提出开除该老师的建议
- D、某公司派一名员工去另一对手公司偷窃商业机密文件以用于自己公司的发展

82. “邯郸学步”这则典故是指到邯郸去学走路的步法。战国时期，一个燕国人听说赵国邯郸人走姿很漂亮，便来到邯郸学习邯郸人走路。未得其能，又忘记自己的走姿，最后爬着回到了燕国。

根据上述文字，下列最能够解释成语“邯郸学步”的涵义的是（ ）

- A、装模作样
- B、盲目模仿
- C、本末倒置
- D、一成不变

83. 因工作需要，K 单位安排了甲、乙、丙、丁、戊五人在 10 月 1-5 日的晚上进行值班。每人只需值一晚，且每晚只安排一人。甲说：“乙在 1 号值班，我在 3 号值班。”乙说：“丙在 1 号值班，丁在 4 号值班。”丙说：“甲在 2 号值班，戊在 5 号出差。”丁说：“丙在 3 号值班，乙在 4 号值班。”戊说：“丁在 2 号值班，我在 3 号值班。”

如果每个人都只说对了一个人的值班时间，由此可以推出（ ）

- A、3 号值班的是戊
- B、2 号值班的不是丁
- C、1 号值班的是丙
- D、4 号值班的不是乙

84. 在过去的 15 年中，动物学家每年都在南极帝企鹅的主要繁殖地统计它们的数量。结果发现南极帝企鹅的数量从 6000 只下降为 1500 只。由此可见，南极帝企鹅的数量在急剧下降。

以下（ ）如果为真，不能支持上述结论。

A、帝企鹅的哺育工作几乎完全都在海冰上完成，上升的气温使南极海冰加速萎缩，致使帝企鹅幼仔成活率急剧下降

- B、全球气候变暖使南极地区的暴风雪变成了暴风雨，小企鹅在被暴雨淋湿身体后，因体温过低而被冻死
- C、由于全球温室效应持续增强，致使帝企鹅赖以生存的磷虾数目急剧减少
- D、在地球的北极发现，该地区的北极熊数量有所增加

85. 中国机器人产业联盟发布消息称，我国工业机器人销量是 6.8 万台，增长速度是 18%，高于预期的 15%。有生产商表示，工业机器人销量之所以如此高是因为东南亚国家对我国生产的工业机器人的青睐。

上述结论的假设前提是（ ）

- A、东南亚市场在中国工业机器人销售市场中占较大的比重
- B、我国对东南亚国家实行优惠政策
- C、东南亚国家生产机器人的技术没有我国精湛
- D、我国工业机器人在全球市场上销量都遥遥领先

86. 在超市和农贸市场，常会看到被捆成一小捆的蔬菜。捆扎蔬菜一方面是为了方便购买，另一方面也是商家防

止“精明”的大爷大妈们过分挑拣。过去捆扎蔬菜多用草绳，而近年来用五颜六色的胶带捆扎的现象越来越常见。胶带几乎没有重量，不必担心商家借此压秤。因此使用胶带捆绑蔬菜不仅美观大方，也显得更干净。

以下选项中最能反驳上述论断的是（ ）

- A、使用胶带捆绑蔬菜的成本比使用草绳高
- B、捆绑蔬菜用的草绳往往是不干净的，并且可能会含有虫害
- C、胶带携带方便，使用简单
- D、胶带中常残留有各种致癌的有毒物质，使用胶带捆绑蔬菜会使有毒物质转移到蔬菜上

87. 冬天来临，网上一篇关于洗澡顺序的文章广为流传。该文称，人的血管非常脆弱，遇上高温会热胀，一不小心就会爆裂，冬天洗澡时，如果先洗头，会使血液突然聚集到头部，容易诱发脑血管疾病甚至导致脑溢血。

若下列论断为真，最能削弱上述结论的是（ ）

- A、有研究机构称，人的血管是人体中最脆弱的部分
- B、调查表明，有很多南方人在冬天时仍然坚持用冷水洗澡
- C、据统计，日本每年冬天有 1.4 万人在洗热水澡时死亡
- D、洗热水澡时由于体温升高、心率加快、用力过猛会引起血压变化，血压高是引发脑溢血的根本原因

88. 一些住在核电站附近的人担心，核电站的辐射会造成人体伤害。更多的人则担心，核电站一旦发生爆炸，其危害将不亚于核武器。

若下列论断为真，最能消除更多的人担心的问题的是（ ）。

- A、核电站使用的核燃料浓度很低，远远未达到核武器爆炸所要求的浓度，且二者的作用原理和机制不一样
- B、核辐射只要不超过一定的标准，就不会对人体产生危害
- C、30 多年前，苏联切尔诺贝利核电站曾发生过严重的爆炸事故，造成的灾难至今还难以消除
- D、现代核电站的技术已经相当完善，很多发达国家都建立了不少的核电站

89. 与“海水：澎湃”这组词逻辑关系最为相近的一项是（ ）

- A、西瓜：香甜
- B、道路：修建
- C、策划：推广
- D、平原：山林

90. 与“预习：上课：复习”这组词逻辑关系最为相近的一项是（ ）

- A、高考：考试：大学
- B、调研：设计：生产
- C、痊愈：挂号：出院
- D、笔试：面试：报名

91. 与“实现：远大：梦想”这组词逻辑关系最为相近的一项是（ ）

- A、完成：重要：任务
- B、建造：高楼：大厦
- C、购买：消费：物品
- D、补给：粮食：物品

92. 与“奖金：奖励：激励”这组词逻辑关系最为相近的一项是（ ）

- A、复习：考试：毕业
- B、书法：音乐：艺术
- C、打折：促销：竞争
- D、失败：成功：成长

93. “编辑部”对于（ ）相当于（ ）对于“学校”

- A、作者 校园
- B、期刊 学生
- C、人事处 幼儿园
- D、出版社 教务处

94. （ ）对于“碧螺春”相当于“景德镇”对于（ ）

- A、苏州 瓷器
- B、宜兴 陶都
- C、茶叶 白瓷
- D、绿茶 锦都

95. （ ）对于“折射”相当于“杯弓蛇影”对于（ ）

- A、一叶障目 透射
- C、碧空如洗 散射

- B、小孔成像 衍射
- D、海市蜃楼 反射

## 第五部分 资料分析

所给出的图、表、文字或综合性资料均有若干个问题要你回答。你应根据资料提供的信息进行分析、比较、计算和判断处理。

### (一)

2017年1-8月，W省完成民间固定资产投资（以下简称民间投资）10287.23亿元，同比增长12.6%，比全国民间投资增速快6.2个百分点，比上年同期快10.2个百分点，比上半年和一季度分别加快1.1个和6.0个百分点。

1-8月，全省民间投资增速比国有经济投资增速低1.6个百分点，比1-7月差距缩小1.7个百分点，比上半年缩小4.3个百分点，比一季度缩小17.4个百分点。

1-8月，全省民间投资占全部投资的比重为58.9%，比一季度、上半年、1-7月分别提高3.1、0.4和0.1个百分点。

民间投资主要集中在工业和房地产业。1-8月，全省工业民间投资占全部民间投资的比重为48.3%，其中，制造业民间投资占全部民间投资的比重为43.6%；工业民间投资占全部工业投资的比重为83.4%，其中，制造业民间投资占全部制造业投资的比重为88.0%。房地产开发投资是W省民间投资的第二大领域，1-8月，全省房地产开发民间投资占全部民间投资的比重为16.6%，占全部房地产开发投资的比重为84.0%。

96. 2016年1-8月，W省完成民间固定资产投资约为（ ）亿元。

- A、9136.08
- B、9257.31
- C、10875.22
- D、11583.42

97. 2017年上半年，W省完成民间固定资产投资同比增长约（ ）个百分点。

- A、2.4
- B、6.0
- C、6.4
- D、11.5

98. 2017年1-8月，W省国有经济投资增速为（ ）

- A、10.9%
- B、14.6%
- C、11.0%
- D、14.2%

99. 2017年1-8月，W省完成全部投资约为（ ）亿元。

- A、15037.31
- B、16458.62
- C、17465.59
- D、18037

100. 根据上述资料，下列说法中正确的有（ ）个。

- (1) 2017年1-8月，W省制造业民间投资占全部民间投资的比重大于其占全部制造业投资的比重
- (2) 2017年1-8月，W省工业民间投资占全部民间投资的比重比房地产开发民间投资占全部民间投资的比重大31.7个百分点
- (3) 2017年以来，W省民间投资增速与国有经济投资增速的差距逐月增大

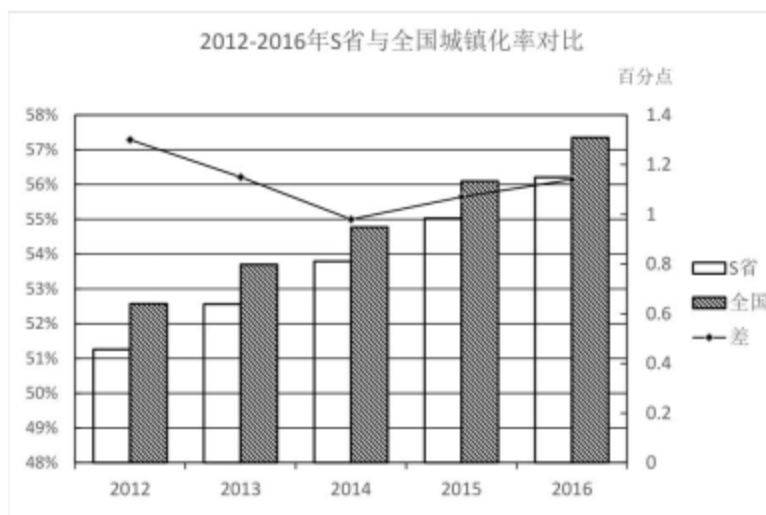
- A、0
- B、1
- C、2
- D、3

### (二)

2012-2016年，S省城镇化水平快速提高。2016年末，S省常住人口3681.61万人，其中居住在城镇区域的

常住人口 2069.63 万人，较 2015 年末增加 53.26 万人；城镇化率达 56.21%，居全国第 16 位，比 2015 年提高 1.18 个百分点。

与 2012 年相比，城镇化率提高了 4.95 个百分点，高于这一时期全国平均增幅 0.17 个百分点。与全国城镇化平均水平的差距由 2012 年的 1.31 个百分点缩小为 1.14 个百分点。



2016 年，全省 11 个市中城镇人口超过 50%的市由 2012 年的 5 个增加为 8 个。城镇化水平较低的 E 市、F 市、G 市均实现了较快的增长，年均增长率分别达到 1.56、1.62 和 1.53 个百分点，区域间城镇化水平差距进一步缩小，全省城镇化保持了较快的增长势头。

101. 2015 年末，S 省居住在城镇区域的常住人口有（ ）万人。

- A、2025.36                      B、2070.58                      C、2034.87                      D、2016.37

102. 2012 年，S 省城镇化率为（ ）。

- A、55.03%                      B、51.26 %                      C、57.39%                      D、61.16%

103. 2012-2016 年间，S 省城镇化水平与全国城镇化平均水平的差距最小的是（ ）

- A、2012 年                      B、2013 年                      C、2014 年                      D、2015 年

104. 与 2012 年相比，2016 年 S 省城镇人口超过 50%的城市数量增长了（ ）

- A、40%                      B、50%                      C、60%                      D、70%

105. 根据上述资料，下列说法中错误的有（ ）个。

- (1) 2015 年，S 省城镇化率为 57.59%  
 (2) 2012-2016 年间，全国城镇化水平平均增幅为 4.58%  
 (3) 2012-2016 年间，S 省城镇化水平较低的城市中，年均增长率最低的是 E 市

- A、0                      B、1                      C、2                      D、3

### (三)

2017 年上半年医药工业规模以上企业实现主营业务收入 15314.40 亿元，同比增长 12.39%，增速较上年同期提高 2.25 个百分点。各子行业中，增长最快的是中药饮片加工，化学药品制剂、中成药、制药设备的增速低于行业平均水平。



2017 年上半年医药工业主营业务收入

行业	主营业务收入 (亿元)	同比 (%)	2016 年同期增速 (%)
化学药品原料药制造	2602.06	13.68	9.55
化学药品制剂制造	4080.48	9.47	11.07
中药饮片加工	1047.88	21.33	13.03
中成药制造	3339.72	10.95	8.16
生物药品制造	1620.02	14.52	9.32
卫生材料及医药用品制造	1124.88	14.44	10.62
制药专用设备制造	82.71	6.05	6.46
医疗仪器设备及器械制造	1416.65	12.37	12.60

106. 在医药工业规模以上企业实现主营业务收入上, 2017 年上半年约是 2015 年上半年的 ( )
- A、1.13 倍                  B、0.13 倍                  C、1.24 倍                  D、0.24 倍
107. 2017 年上半年, 中成药制造的主营业务收入较上年约增加了 ( )
- A、371 亿元                  B、330 亿元                  C、300 亿元                  D、30 亿元